





Sources de lumières

Question :

Parmi les images données ci-dessous, entoure celles dans lesquelles on produit (fabrique) de la lumière et indique le numéro de celles dans lesquelles la lumière reçue est renvoyée.



Numéros de images dans lesquelles on montre de la lumière renvoyée :

2 - 3 - 5 - 7 - 9 - 11

Structuration :

Les sources qui **produisent** de la lumière sont des sources **primaires**.

Les sources qui **renvoient** la lumière qu'elles reçoivent sont des sources **secondaires**.